

Школьный этап олимпиады по географии

7 класс Теоретический тур

03

30,5 / 52%

Дроздова

водоем называли Хвалынским морем, Дербентским морем. Северная часть водоема зимой покрыта льдом, в то время как южная остается незамерзающей.

Назовите объект, о котором идет речь в тексте. Укажите название стран.

Как называется крупнейшая река Европы, впадающая в водоем. Какой тип устья характерен для этой реки.

Задание 1

Определите с помощью атласа по географическим координатам вершины крупных горных систем нашей планеты:

- 1) 28° с. ш. 87° в. д. Гималаи, Эверест, 8848 м, Китай 1,5
- 2) 36° ю. ш. 148° в. д. Большой Водораздельный хребет, г. Кокутиши, 2228 м, Австралия 1,5
- 3) 33° ю. ш. 70° з. д. Анды, г. Моккача, 6360 м, Чили 1,5
- 4) 65° с. ш. 60° в. д. Уральские горы, Народная, 1895 м, Россия 1,5
- 5) 31° с. ш. 7° з. д.

Напишите:

1. названия вершин и горных систем, в которых они расположены;
2. определите абсолютную высоту вершин.
3. на территории какого государства расположены вершины этих гор

Задание 2


Этот пролив, являющийся мировым рекордсменом сразу по нескольким номинациям, назван по имени англичанина - руководителя второй кругосветки, который собственно и проплыл по проливу первым из европейцев. Для пролива типичны частые шторма.

Назовите пролив, укажите океаны он соединяет, какие материки разъединяет.

Назовите, в каких номинациях пролив является рекордсменом, объясните, почему там бывают самые частые и сильные ветра.

Задание 3

Этот объект - крупнейший на Земле замкнутый водоем, расположенный в двух частях света. Его воды омывают берега 5 стран. В водоем впадает 130 рек, в том числе и одна из крупнейших рек Европы. Много веков назад



Россия
Казахстан
Иран
Азербайджан
Туркмения

Задание 4

О каких видах атмосферных осадков говорится в следующих литературных отрывках и загадках?

1. Огородные грядки были посыпаны крупной солью мороза. (К.Г. Паустовский) град 1,5
2. Когда в солнечное утро летом пойдешь в лес, то на полях в траве видны алмазы. (Л.Н. Толстой) роса 1,5
3. Грянул гром нежданно, наобум — Яростный удар и гул протяжный. А потом пронесся легкий шум,

Торопливый, радостный и влажный.

(С.Я. Маршак)

чрез дождем 15

4. И вот сентябрь! И вечер года к нам
Подходит. На поля и горы
Уже мороз бросает по утрам
Свои серебристые узоры.

(Е.А. Баратынский)

чид 15

05 Задание 5

Маша решила рассказать своей подруге, проживающей в столице России о наиболее интересных объектах на территории Хабаровского края, вошедших в проект «7 чудес Хабаровского края». Назовите эти объекты и главные особенности, по которым их включили в этот проект.

1. Амур-Амур

2. Амур

3. Большой Хейхуэньский заповедник

4. Великий байкал

05 1. Что нужно сделать для того, чтобы отпраздновать Новый год второй раз за сутки?

- А) Пересечь нулевой меридиан с запада на восток;
- Б) Пересечь нулевой меридиан с востока на запад;
- В) Пересечь экватор с севера на юг по линии перемены дат;
- Г) Пересечь экватор с юга на север по линии перемены дат;

15 2. Какой из нижеуказанных архипелагов посещал Фернандо Магеллан?

- А) Алеутские острова;
- Б) Багамские острова;
- В) острова Галапагос;
- Г) Марианские острова;

15 3. Какое средство Джеймс Кук стал использовать против цинги на своих судах?

- А) квашеную капусту
- Б) доброе слово
- В) яблоки
- Г) индийские пряности

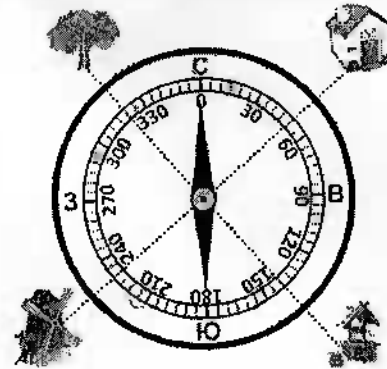
05 4. Определите океан по описанию: «Площадь 91,6 млн. кв. км, из которых около четверти приходится на внутриконтинентальные моря. Площадь прибрежных морей невелика и не превышает 1% от общей площади. Объем океана - это 25% от объема Мирового океана. Средняя глубина 3736 м, наибольшая - 8742 (желоб Пуэрто-Рико). Среднегодовая соленость вод океана составляет около 35‰».

- А) Атлантический
- Б) Северный Ледовитый
- Г) Индийский
- Г) Тихий

15 5. Этот материк расположен в западном и восточном полушариях был открыт русскими мореплавателями самым последним в 1820 г.. О каком материке идет речь?

- А) Африка
- Б) Антарктида
- В) Евразия
- Г) Австралия

6. Соотнесите нарисованный объект с его азимутом:



- 15 б
- | | | |
|-------------|---------|------|
| 1) Домик | А - 230 | 0,25 |
| 2) Колодец | Б - 50 | 0,25 |
| 3) Мельница | В - 320 | 0,25 |
| 4) Дерево | Г - 140 | 0,25 |

05 7. Выбери лишнее, свой выбор объясни.

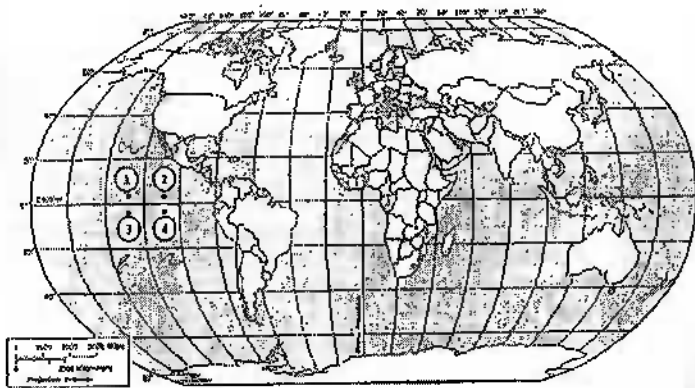
- 1) Фернандо Магеллан
- 2) Христофор Колумб
- 3) Джеймс Кук
- 4) И.Ф. Крузенштерн

потому что он не был мореплавателем

15 8. Выберите путешественника, который не исследовал территорию Хабаровского края:
А) Е.П. Хабаров Б) Н.М. Пржевальский В) В.К. Арсеньев Г) Н.И. Вавилов

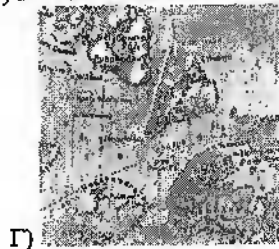
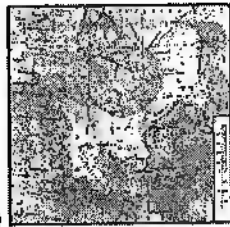
05 9. Какое место по площади занимает Хабаровский край в России?
А) 1 Б) 2 В) 3 Г) 4

15 10. Какая из обозначенных на карте мира точек имеет географические координаты 5° с. ш. и 110° з. д.?



- 1) А
 2) Б *м-ша 2 1*
 3) В
 4) Г

11. Выбери лишнее изображение



12. Соотнесите названия стран и характерные для них особенности территории или географического положения.

- | | |
|--|------------------------|
| А) «страна-материку» <i>1 0,25</i> | 1. Австралия <i>96</i> |
| Б) «карликовое государство» <i>2 0,25</i> | 2. Монако <i>52</i> |
| В) островное государство <i>3 0,25</i> | 3. Монголия <i>82</i> |
| Г) внутриконтинентальное государство <i>4 0,25</i> | 4. Филиппины <i>6</i> |
| | 5. Франция |

13. Найдите соответствие

15

ПОНЯТИЯ

1. Параллель
2. Берг-штрихи
3. Абсолютная высота
4. Географическая карта

ОПРЕДЕЛЕНИЯ

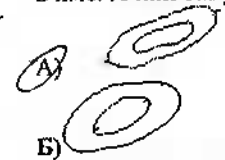
- 1 А) Неровности земной поверхности
- 2 В) Это условно проведенная линия по земной поверхности параллельная линии экватора
- 3 В) Это уменьшенное изображение земной поверхности на плоскости при помощи условных знаков
- 3 Г) Это превышение точки земной поверхности над уровнем моря
- 2 Д) Линии, показывающие направление склонов

Ответ:

1	2	3	4	5
<i>А</i>	<i>В</i>	<i>Г</i>	<i>В</i>	<i>Х</i>

14. В мультфильме «Зима в Простоквашино» машина Дяди Федора застряла в яме. А как такую форму рельефа показывают на топографических картах?

05



15

15. Какой остров отделяется от материка проливом Г.И. Певельского?

- 1) Мадагаскар
- 2) Врангеля
- 3) Сахалин
- 4) Русский